



NOM / PRENOM :

Renseigner tous les hauts de pages

CCF UP2 – COUPE, FORME, COULEUR

Le 28 avril 2011

LE SUJET EST A RENDRE DANS SON INTEGRALITE

PARTIE ECRITE : 1H45

Savoirs associés	points
<i>Technologie des techniques professionnelles et/ou des produits et/ou des matériels</i>	/ 25
<i>Connaissance des milieux de travail</i>	/ 10
<i>Biologie appliquée à la profession</i>	/ 16
<i>Microbiologie et hygiène appliquées à la profession</i>	/ 14
TOTAL	/ 65

Les réponses sont à rédiger sur les documents.

A l'issue de l'épreuve, vous remettrez l'ensemble de ces documents.

NOM / PRENOM :

Madame JOLY entre dans votre salon pour la coloration de sa chevelure.



Technologie des techniques professionnelles et/ou des produits et/ou des matériels

/ 25 POINTS

Vous disposez dans votre salon de différents colorants. Chacun d'eux a une utilisation différente.

1) Relier par des traits, le colorant à ses caractéristiques.

COLORANTS

CARACTERISTIQUES

- | | | |
|----------------|---|----------------------------------|
| Semi-permanent | ▪ | ▪ S'applique après le shampooing |
| Ton sur ton | ▪ | ▪ S'applique avant le shampooing |
| Fugace | ▪ | ▪ Se mélange à un oxydant |
| Permanent | ▪ | ▪ Nécessite un temps de pause |

2) La cliente souhaite éclaircir sa chevelure châtain foncé jusqu'à un blond clair.

2 a) Donner le nombre de tons d'écart qu'il y a entre sa couleur de base et la couleur désirée.

.....

2 b) Si sa couleur est naturelle, que faut-il faire pour éclaircir sa chevelure avant l'application de la coloration d'oxydation?

.....

C.A.P. COIFFURE	DUREE	SESSION 2011
EP2 : Coupe, Forme, Couleur - Partie écrite	1 h 45	Page 2 sur 11

NOM / PRENOM :

2 c) Si sa couleur est artificielle, que faut-il faire pour éclaircir sa chevelure avant l'application de la coloration d'oxydation?

.....

Le souhait de la cliente est un blond clair avec un reflet doré cuivré.

3) Citer la numérotation de la hauteur de ton et du reflet.

.....

Votre patron vous demande de préparer le poste de travail pour la réalisation de la coloration d'oxydation.

4) Citer le matériel nécessaire pour la réalisation de cette technique. (5 réponses)

.....

.....

.....

.....

.....

Après le temps de pause de la coloration, vous réalisez un shampoing.

5) Cocher la famille de shampoing que vous utiliserez.

- Traitant
- Simple
- Spécifique
- D'application technique

6) Donner trois rôles du shampoing après une coloration d'oxydation.

.....

.....

.....

C.A.P. COIFFURE	DUREE	SESSION 2011
EP2 : Coupe, Forme, Couleur - Partie écrite	1 h 45	Page 3 sur 11

NOM / PRENOM :

Après le shampoing vous proposez à Madame JOLY, l'application d'un soin.


7) Citer les 3 familles de soins.

.....

.....

.....

8) Après avoir rincé la chevelure de Madame JOLY, celle-ci vous présente cette photo.



Cocher le(s) matériel(s) nécessaire(s) à la réalisation de cette coiffure.

- Fer à lisser
- Rouleaux à mise en plis
- Fer à gaufrer
- Sèche cheveux
- Broses rondes
- Fer à friser
- Diffuseur

9) Citer trois précautions que vous prendrez lors de l'utilisation d'appareils électriques dans le salon de coiffure.

.....

.....

.....

.....

C.A.P. COIFFURE	DUREE	SESSION 2011
EP2 : Coupe, Forme, Couleur - Partie écrite	1 h 45	Page 4 sur 11

NOM / PRENOM :

Connaissance des milieux de travail

/10 points

Eva la technicienne, a travaillé dans de bonnes conditions pour l'application du colorant de Madame JOLY. La zone technique du salon de coiffure est pourvue d'une bonne aération et ventilation.

1) Indiquer un principe de ventilation qui peut-être utilisé dans un salon de coiffure.

Après le temps de pause, le shampoing est effectué avec une eau adoucie.

2) Donner deux exemples de l'avantage à utiliser une eau adoucie en salon de coiffure.

L'éclairage du salon de coiffure est conforme aux normes exigées.

3) Indiquer quatre qualités attendues d'une source lumineuse.

Madame JOLY se dirige vers la caisse, pour régler le montant de la prestation supérieur à 15 euros, une facture lui est remise :

4) Donner trois mentions obligatoires figurant sur la facture de Madame JOLY.

C.A.P. COIFFURE	DUREE	SESSION 2011
EP2 : Coupe, Forme, Couleur - Partie écrite	1 h 45	Page 5 sur 11

NOM / PRENOM :

Madame JOLY choisi de régler le montant de sa facture par chèque.

5) Indiquer trois contrôles à effectuer avant l'encaissement du chèque.

.....

.....

.....

Eva la technicienne, a travaillé sous la responsabilité de la gérante hautement qualifiée, qui possède un diplôme professionnel : le BP

6) Indiquer la signification des lettres ci-dessous pour retrouver trois diplômes professionnels de la coiffure.

CAP : C..... D' A..... P.....

MC : M..... C.....

BP : B..... P.....

Eva veut perfectionner son travail technique. Elle souhaite en tant que salariée depuis un an dans l'entreprise, bénéficier d'une formation. Elle va donc soumettre sa demande par écrit, à son employeur.

Grace au « DIF », crédit de temps de 21 heures, Eva pourra se former.

7) Indiquer la signification des trois lettres ci-dessous.

DIF :

D..... I..... à la F.....

C.A.P. COIFFURE	DUREE	SESSION 2011
EP2 : Coupe, Forme, Couleur - Partie écrite	1 h 45	Page 6 sur 11

NOM / PRENOM :

Biologie appliquée à la profession

/ 16 POINTS

Madame JOLY souhaite couvrir ses cheveux blancs.

1) Citer le nom des cellules permettant la fabrication de la couleur des cheveux.

.....

Avec l'âge il se produit une diminution du nombre de ces cellules, ce qui provoque le blanchiment des cheveux.

2) Donner le nom de cette anomalie.

.....

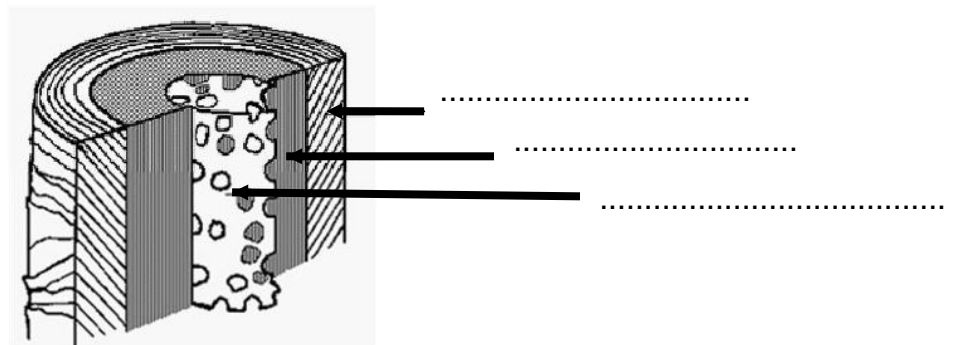
D'autres anomalies de la couleur existent :

3) Relier chaque anomalie à sa définition.

- | | |
|---------------|-------------------------------|
| Albinisme . | Présence de mèches rouges |
| Rutilisme . | Absence localisée de pigments |
| Piébaldisme . | Absence totale de pigments |

4) Compléter le schéma de la structure du cheveu et préciser la où les parties où se situent les pigments de la mélanine.

.....

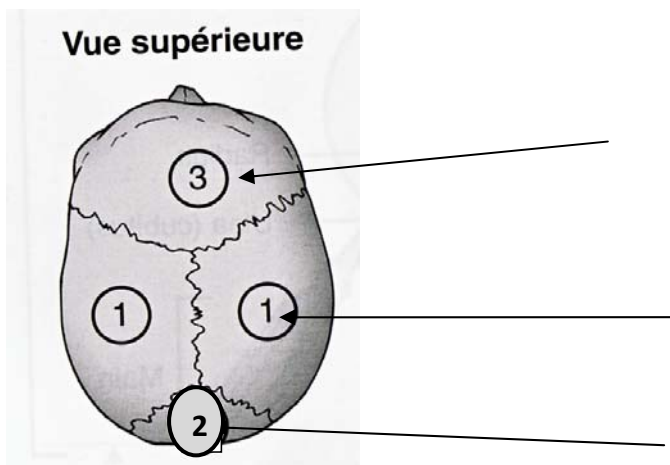


C.A.P. COIFFURE	DUREE	SESSION 2011
EP2 : Coupe, Forme, Couleur - Partie écrite	1 h 45	Page 7 sur 11

NOM / PRENOM :

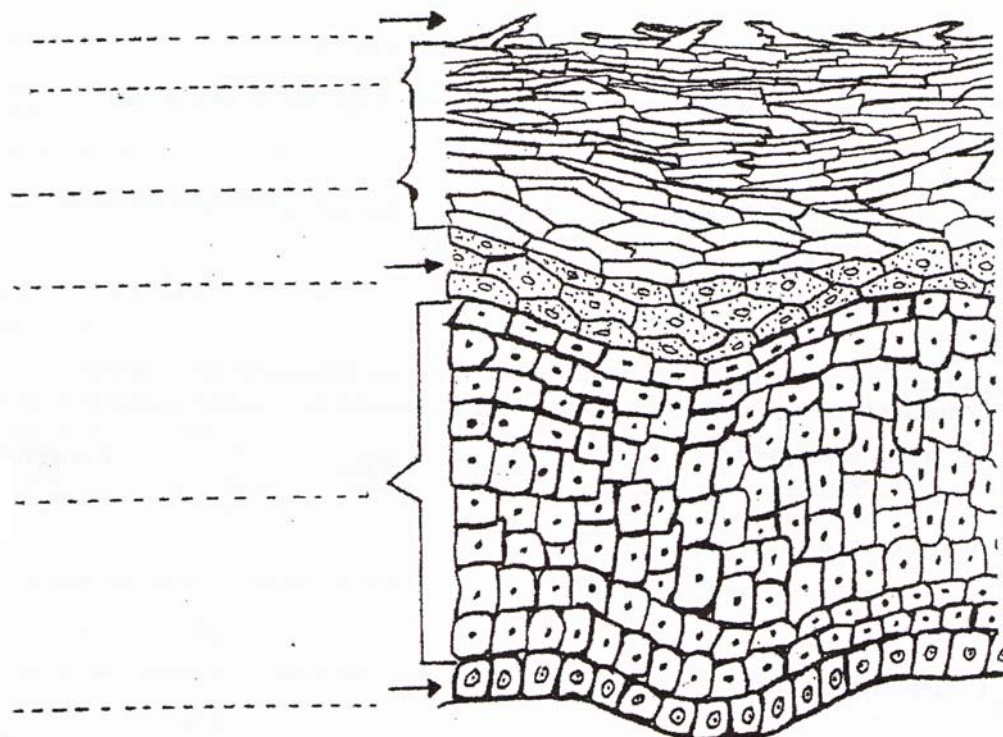
Lors de l'application du soin à Madame JOLY, vous réalisez un massage du cuir chevelu.

5) Légender le schéma ci dessous.



La peau qui recouvre tout notre corps a une structure qui lui confère des caractéristiques particulières. La couche la plus superficielle est l'épiderme.

6) Légender la coupe de l'épiderme ci-dessous.



C.A.P. COIFFURE	DUREE	SESSION 2011
EP2 : Coupe, Forme, Couleur - Partie écrite	1 h 45	Page 8 sur 11

NOM / PRENOM :

7) Indiquer le type de tissu auquel appartient l'épiderme.

.....

8) Nommer trois types de cellules que l'on trouve dans l'épiderme.

.....

.....

.....

9) Citer une couche fortement kératinisée.

.....

Avant le coiffage de Madame JOLY, vous lui avez fait une légère coupe de cheveux. En manipulant les ciseaux vous vous êtes blessé.

10) Indiquer dans quelle partie de la peau se trouvent les vaisseaux sanguins.

.....

C.A.P. COIFFURE	DUREE	SESSION 2011
EP2 : Coupe, Forme, Couleur - Partie écrite	1 h 45	Page 9 sur 11

NOM / PRENOM :

Microbiologie et hygiène appliquées à la profession

/ 14 POINTS

Après une coupure, les microorganismes peuvent pénétrer dans l'organisme.

1) Indiquer trois types de microorganismes qui peuvent infecter un organisme.

.....
.....
.....

La pénétration de microorganisme au niveau d'une plaie va entraîner une réaction inflammatoire. Une rougeur apparaît.

2) Rappeler les trois autres caractéristiques d'une réaction inflammatoire localisée.

.....
.....
.....

Les microorganismes peuvent pénétrer dans l'organisme par différentes voies.

3) Citer quatre voies de pénétration et souligner celle(s) qui concerne(nt) les coiffeurs dans leur activité professionnelle.

.....
.....
.....
.....

C.A.P. COIFFURE	DUREE	SESSION 2011
EP2 : Coupe, Forme, Couleur - Partie écrite	1 h 45	Page 10 sur 11

NOM / PRENOM :

4) Indiquer trois conditions de vie favorables au développement des bactéries.

.....
.....
.....

5) Définir le terme pathogène.

.....

Pour prévenir une infection, il est nécessaire d'empêcher la multiplication des microorganismes au niveau d'une plaie.

6) Indiquer ce que vous devez utiliser en cochant la bonne réponse :

Un antiseptique

Un désinfectant

Dans l'exercice de votre profession, vos mains peuvent être sensibilisées.

7) Citer trois précautions et règles d'hygiène indispensables au respect de vos mains.

.....
.....
.....
.....
.....

C.A.P. COIFFURE	DUREE	SESSION 2011
EP2 : Coupe, Forme, Couleur - Partie écrite	1 h 45	Page 11 sur 11